


14級・5のかたまり

月 日		分 秒		級	なまえ
①		しろ	あお	あわせて	
	<input type="text"/>	と	<input type="text"/>	で	<input type="text"/> こ
②		しろ	あお	あわせて	
	<input type="text"/>	と	<input type="text"/>	で	<input type="text"/> こ
③					
	<input type="text"/>	と	<input type="text"/>	で	<input type="text"/> こ
④					
	<input type="text"/>	と	<input type="text"/>	で	<input type="text"/> こ
⑤					
	<input type="text"/>	と	<input type="text"/>	で	<input type="text"/> こ
⑥					
	<input type="text"/>	と	<input type="text"/>	で	<input type="text"/> こ
⑦					
	<input type="text"/>	と	<input type="text"/>	で	<input type="text"/> こ
⑧					
	<input type="text"/>	と	<input type="text"/>	で	<input type="text"/> こ
⑨		しろ	あお	あわせて	
	<input type="text"/>	と	<input type="text"/>	で	<input type="text"/> こ
⑩		しろ	あお	あわせて	
	<input type="text"/>	と	<input type="text"/>	で	<input type="text"/> こ
⑪		5のかたまり			
	<input type="text"/>	と	<input type="text"/>	で	<input type="text"/> こ
⑫		5			
	<input type="text"/>	と	<input type="text"/>	で	<input type="text"/> こ
⑬					
	<input type="text"/>	と	<input type="text"/>	で	<input type="text"/> こ
⑭		ごえんだま			
	<input type="text"/>	と	<input type="text"/>	で	<input type="text"/> 円
⑮		5円			
	<input type="text"/>	と	<input type="text"/>	で	<input type="text"/> 円
⑯		5円			
	<input type="text"/>	と	<input type="text"/>	で	<input type="text"/> 円
⑰		ゆびは	なんぼん?		
	<input type="text"/>	ぼんと	<input type="text"/>	ぼんで	<input type="text"/> ぼん
⑱					
	<input type="text"/>	と	<input type="text"/>	と	<input type="text"/> で
⑲		タイルはあわせてなんこ?			
	<input type="text"/>				<input type="text"/> こ
⑳					
	<input type="text"/>				<input type="text"/> こ
㉑					
	<input type="text"/>				<input type="text"/> こ
㉒		5			
	<input type="text"/>				<input type="text"/> こ
㉓		5			
	<input type="text"/>				<input type="text"/> こ
㉔		5			
	<input type="text"/>				<input type="text"/> こ


● 4と5ふんでけいさんしましょう。
● すうじはていねいこ。

1
10




いろいろな かたちがあります。さんかくの
かたちをしたものは いくつですか。 こ

2
10



きのこが 8こ あります。8こ たべると のこりは、
いくつですか。 = こ

3
10



7人^{にん}で あそびます。いま、3人^{にん} います。あと
なん^{にん}人 くれればよいですか。 ^{にん}人

4
10

えんぴつを、^{うえ}上に 5本^{ほん}、^{した}下に 4本^{ほん}
かきます。 // ^{しき}_____

^{うえ} 上					
^{した} 下					

ぜんぶで ^{ほん}本

5
15

1わの あひるが いけで あそんでいました。そこへ 6わ なかまが
ふえました。ぜんぶで なんわですか。 = わ

6
15

くつを 10そく もっていました。小さくて はけないのを 5そく
あげました。のこりは なんそくですか。 = そく

7
15

きいろいばらが 5本^{ほん}、あか^{あか}いばらが 3本^{ほん}あります。ぜんぶで
なん^{ほん}本になりますか。 = ^{ほん}本

8
15

おきゃくさんが 6人^{にん} いました。そのうち 4人^{にん} かえりまし
た。のこりは なん^{にん}人ですか。 = ^{にん}人