


基礎計算 数さがし C 140問 (5分)

(1問1点)

タイム		級		なまえ		点	
分	秒					140	
5	10	11	13	14	15	17	20
4	5	6	9	10	3	15	10
2	8	9	12	9	1	13	15
1	6	5	0	12	10	4	17
3	9	8	7	8	15	7	13
0	3	7	5	7	8	9	11
5	1	2	8	3	11	6	8
2	4	3	1	2	9	2	5
4	2	1	3	4	5	7	3
1	0	4	5	6	7	0	9
3	7	10	4	5	6	8	6
		30	40	50	60	70	80
博多		広島	岡山	神戸	新大阪	京都	8級 名古屋


21		30		42		50		100		100	
19	25	40	47	95	20						
15	23	38	42	99	25						
20	28	37	5	92	40						
18	2	2	1	3	45						
16	7	4	20	4	55						
5	4	3	30	7	11						
2	15	6	25	10	84						
4	11	20	15	50	63						
7	16	22	33	30	22						
3	19	2	18	60	36						
90	100	110	120	130	140						
7級 	6級 大宮	5級 宇都宮	5級 福島	4級 仙台	4級 						
東京		うつのみや		せんざい		盛岡					

1
10

しゅうかん むいか なんにち
2週間と6日は何日ですか。

2
15


てすと して、8題 できました。1題 5点です。何点になりますか。



しき _____ ことえ

3
15


きん えん ねえ えん
ちよ金が970円ありました。姉さんがたしてくれて、ちょうど1000円になりました。姉さんは、いくらたしてくれたでしょう。



しき _____ ことえ

4
15

つき
次のしきのたしかめをしなさい。



$15 - 7 = 8$

}

_____ =

または _____ =

5
15




12こを3人で分けると1人分は、

しき _____ = こ

6
15

どう とし ばい さい どう なんさい
お父さんの年は、ぼくの4倍です。ぼくは9才です。お父さんは何才でしょう。




しき _____ ことえ

7
15

あに くるま ひだり だい みぎ だい くるま
兄の車の左に4台、右に5台、車がならんでいます。このれつには

くるま なんだい
車が何台とめてありますか。



左	兄の車	右

しき + + = だい

9級