

÷基礎計算 6級 わりざん 44問


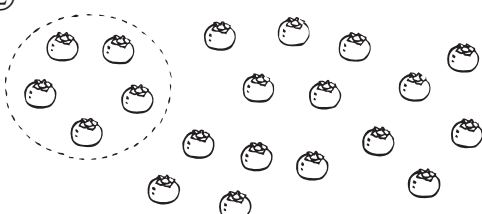
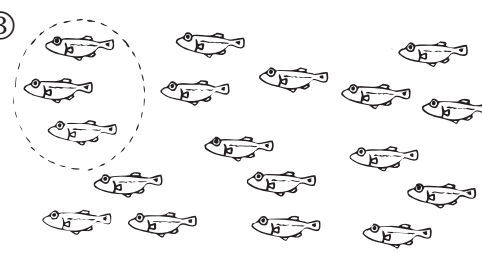

(1問5点)

20

(1問2点)

80

6 ÷

タイム	分	秒	級	なまえ	点
①	せん 線でかこんで しら 調べる。				
					
ボールのかず 2こずつわける なん人ぶん					
$\square \div 2 = \square$ 人					
$8 \div 4 =$					$21 \div 7 =$
$21 \div 3 =$					$12 \div 3 =$
$8 \div 1 =$					$18 \div 2 =$
$25 \div 5 =$					$36 \div 9 =$
$18 \div 6 =$					$12 \div 6 =$
②					
					
ぜんぶで 5こずつ なん人ぶん					
$\square \div 5 = \square$ 人					
$3 \div 1 =$					$15 \div 5 =$
$10 \div 2 =$					$30 \div 6 =$
$30 \div 5 =$					$7 \div 7 =$
$20 \div 4 =$					$45 \div 5 =$
$18 \div 6 =$					$45 \div 9 =$
③					
					
ぜんぶで 3びきずつ					
$\square \div \square = \square$ 人ぶん					
$6 \div 6 =$					$35 \div 7 =$
$15 \div 3 =$					$27 \div 9 =$
$16 \div 2 =$					$63 \div 7 =$
$24 \div 3 =$					$40 \div 8 =$
$28 \div 7 =$					$81 \div 9 =$
④					
					
ぜんぶで 4人ずつ なんくみ					
$\square \div \square = \square$ くみ					
$16 \div 8 =$					$14 \div 7 =$
$40 \div 5 =$					$32 \div 8 =$
$9 \div 3 =$					$27 \div 3 =$
$9 \div 9 =$					$18 \div 9 =$
$32 \div 4 =$					$72 \div 8 =$

1	500 円で 120 円のノート ^か を 2 さつ ^{なんえん} 買った。おつりは 何円ですか。	しき _____	こたえ <input type="text"/> <input type="text"/> 円
2	1 ダースと 8 本の えんぴつ ^わ を 5 人で分 ^{ぶん} けます。1 人分は何本ですか。	しき _____	こたえ <input type="text"/> <input type="text"/>
3	男 2 人と女 3 人のチーム ^{くみ} が 9 組 ^{おお} ある。男と女 どちらが 何人多いですか。	しき _____	<input type="text"/> が <input type="text"/> 人多い
4	A 君 ^{くん} は本を 12 さつ ^も 持っている。B 君 ^{おお} は、A 君より 7 さつ ^{ぶん あ} 多い。2 人分合わせると。	しき _____	こたえ <input type="text"/> <input type="text"/>
5	100 円のうち、10 円玉 ^{だま} が 6 こ あとはぜんぶ 5 円玉です。5 円玉は何こですか。	しき _____	こたえ <input type="text"/> <input type="text"/>
6	かめ ^{かず} が 3 びきいます。足の数は何本 ^{しき こた} ですか。式で答えなさい。	しき _____	こたえ <input type="text"/> × <input type="text"/>
7	1 人に 赤 3 こ 白 4 このあめ ^{あめ} をくばる。4 人にくばるには ぜんぶでいくつですか。	しき _____	こたえ <input type="text"/> <input type="text"/>
8	3m おきに 植木 ^{うえき} が 5 本ある。はしから はしまで何 m ですか。	しき _____	こたえ <input type="text"/> <input type="text"/>
9	1 人 20 円ずつ集める。きのう 15 人、きょう 10 人もってきた。いくら集めたか。	しき _____	こたえ <input type="text"/> <input type="text"/>
10	3 人の子に 30 円と 20 円のあめ ^{だ い ぜんぶ} を 1 こずつくばる。あめ代は全部で何円ですか。	しき _____	こたえ <input type="text"/> <input type="text"/>